



第 2 课时 现代化的畜牧业 繁荣的旅游业



知识梳理

一、现代化的畜牧业

1. 主要食物：欧洲人以_____和_____为主要食物。
2. 自然条件：地形以_____为主，气候以_____气候分布最广。
3. 农业：多数国家的农业以_____业为主，畜牧业产值占农业总产值的比重较高。主要牲畜为_____和_____，这里劳动力短缺，农业生产高度_____、_____。

二、繁荣的旅游业

4. 自然旅游资源：南部_____沿岸，夏季阳光明媚，海滨沙滩景色迷人。北部_____半岛，峡湾曲折幽深，引人入胜。中部_____山脉，雪峰高耸，是登山和滑雪的理想场所。
5. 人文旅游资源：本区现代文化事业发达，_____、艺术馆、_____等
在世界上享有盛誉。

6. 旅游大国：_____、意大利、_____等国入境游客数量和旅游收入均居世界前列。

A 基础方阵

知识点 1 现代化的畜牧业

1. (连云港市中考) 欧洲西部地形以平原为主, 温带海洋性气候广布, 多数国家的农业 ()
A. 以种植业为主
B. 以畜牧业为主
C. 以林业为主
D. 以渔业为主
2. 欧洲畜牧业发达, 被称为“绿色金子”的是 ()
A. 森林
B. 海洋
C. 牧草
D. 金矿
3. 下列关于欧洲西部工农业的说法不正确的是 ()
A. 欧洲西部的国家大多数属于发达国家
B. 法国畜牧业产值占农业总产值的 70% 以上

C. 荷兰花卉种植业发达,尤以郁金香驰誉世界

D. 德国是世界上的工业大国

4. 欧洲西部地区适宜牧草生长的有利条件是 ()

A. 平原面积广阔

B. 热量充足

C. 光照充足,太阳辐射强

D. 气候温凉潮湿,多雨多雾,日照少

知识点 2 繁荣的旅游业

5. 下列关于欧洲西部发展旅游业优势的说法,错误的是 ()

A. 自然条件多样,自然景观丰富多彩

B. 历史文化名城众多,博物馆、艺术馆、音乐厅等在世界享有盛誉

C. 大多数国家使用统一的货币——欧元,跨国过境方便,交通发达

D. 欧洲西部世界遗产地较少,不足全球的 30%



6. (郴州市中考)明明想利用暑假去欧洲旅游,他上网查到下列四个具体的游览活动项目,却发现只有一项搭配正确,这一项是 ()

- A. 英国——维也纳音乐会 B. 法国——埃菲尔铁塔
C. 希腊——水城威尼斯 D. 德国——峡湾风光



B



整合阅兵

7. (呼伦贝尔市中考)“一带一路”是“丝绸之路经济带”和“21世纪海上丝绸之路”的简称,“一带一路”将进一步加强中国与欧洲西部的经济联系。欧洲西部发展经济的优势是 ()

- ①工业工艺精,技术水平和生产效率高 ②种植业产值占农业总产值的比重大 ③服务业体系完善,质量优 ④气候和地形条件有利于畜牧业的发展

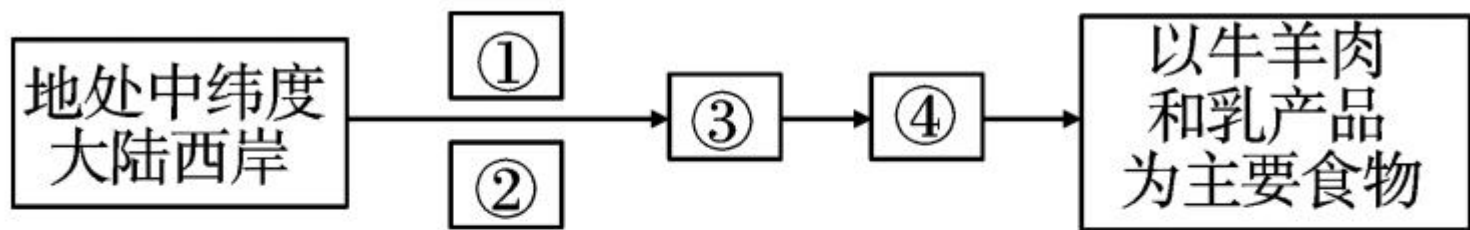
A. ①②③

B. ②③④

C. ①②④

D. ①③④

8. (潍坊市中考) 根据如图地理事物的因果关系, 判断哪位同学手中的卡片放在③处最合适 ()



小赵
○
地形以平原为主

小钱
○
畜牧业发达

小孙
○
草原广布
牧草多汁

小李
○
温带海洋性气候广布

- A. 小赵 B. 小钱 C. 小孙 D. 小李

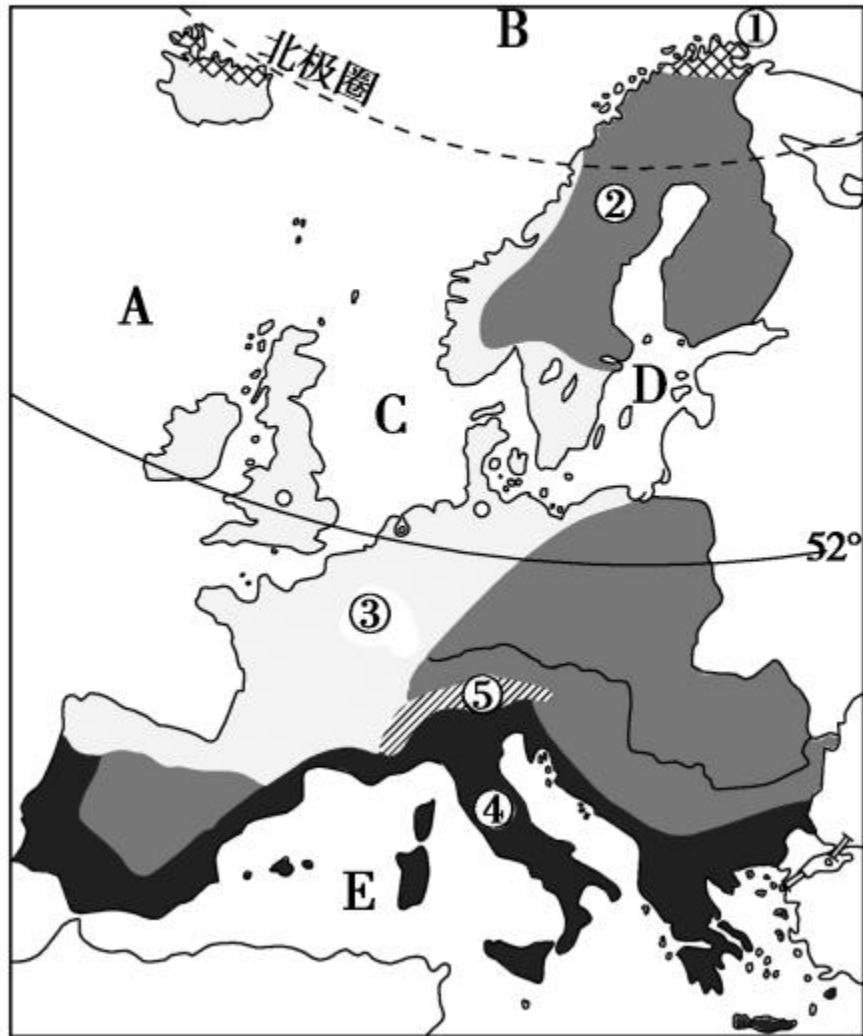
9. 形成欧洲西部气候东西差异的最主要原因是 ()

- A. 纬度的不同 B. 距海远近的不同

C. 所处风带、气压带不同

D. 地势高低不同

10. 读“欧洲西部气候类型分布图”，完成下列各题。



(1) 写出图中数字代号所表示的气候类型的名称。

① _____ 气候 ② _____ 气候

③ _____ 气候 ④ _____ 气候

⑤ _____ 气候

(2) 写出图中字母代号所表示的水域的名称。

A _____ B _____

C _____ D _____

E _____

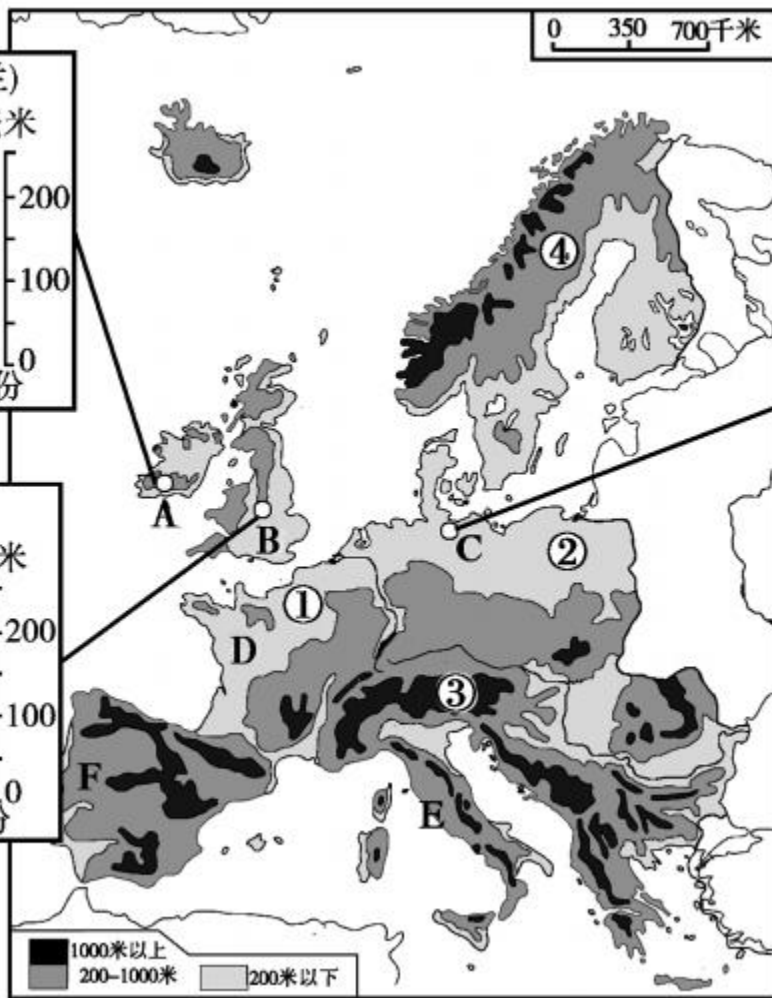
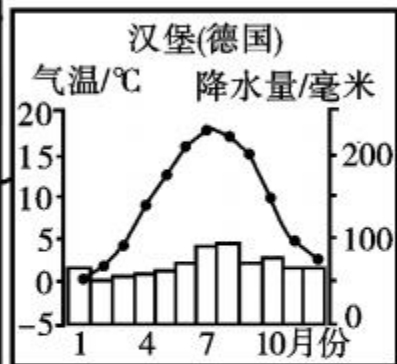
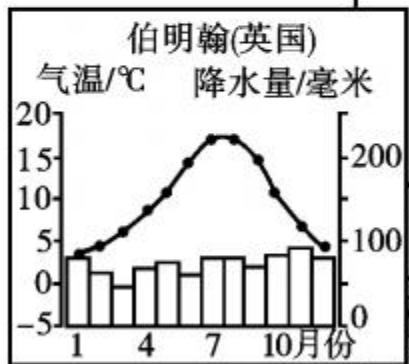
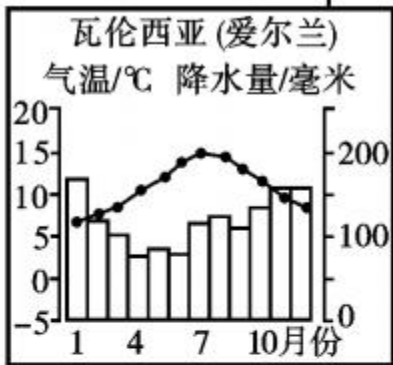
(3) 欧洲西部大部分地区盛行 _____ 风，风从水域
_____ (填代号) 吹来，温和湿润，形成了
_____ 气候，该气候类型的特征是

_____，适合多汁牧草的生长，所以欧洲西部草场面积广大，畜牧业十分发达。



开放探究

11. 读“欧洲西部图”，回答下列问题。



(1) 写出图中地理事物的名称。

①是_____平原, ②是_____平原。③是_____山脉, ④是_____山脉。欧洲南部的三大半岛自西向东依次是_____半岛、_____半岛和巴尔干半岛。

(2) 读 A、B、C 三城市气候资料分析图, 由 A→B→C 气温年较差_____, 年降水量_____。其原因是_____。

(3) 欧洲西部的地势特点是 _____ ,
如果在斯堪的纳维亚半岛和伊比利亚半岛之间有一列连绵、高峻的东北—西南走向的山脉,欧洲西部的温带海洋性气候区的范围将有什么变化?

(4) 根据气候资料和所学知识,分析本地区出口乳畜产品、进口粮食的原因是什么。

(5) 欧洲西部旅游业发达, 图中 D、E、F 是世界著名的三大旅游国 _____, 要观看卢浮宫博物馆应去三国中的 _____ 国 (填代号)。