


4

可能性



第 1 课时 可能性(1) [教材 P₄₄ 例 1]



一 在下面()里填上“一定”“可能”或“不可能”。

1. 明天考试小明得第一。 ()

2. 太阳从西边升起。 ()

3. 每天都有 24 小时。 ()

4. 自行车的速度比火箭的快。 ()

5. 妈妈的体重是 50 千克。 ()

6. 公鸡下蛋。 ()

7. 小明吃饭用左手拿筷子。 ()

8. 我们都会长大。 ()

二 看竖式，在括号里填“可能”或“不可能”。

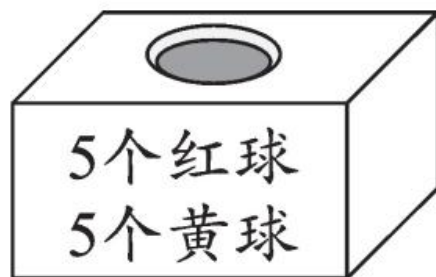
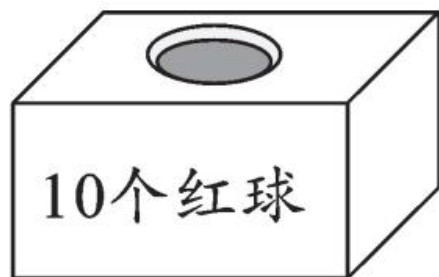
$$\begin{array}{r} \square \\ 4 \overline{) \square 6} \\ \underline{\square 6} \\ 0 \end{array}$$

被除数()是 16，

()是 26，

()是 36。

三 从盒子里摸出一个球,结果会是什么? 连一连。



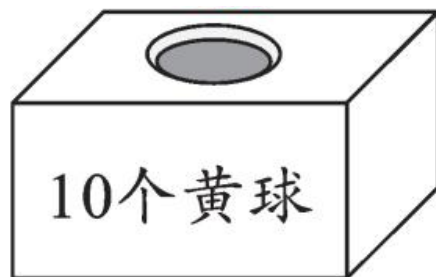
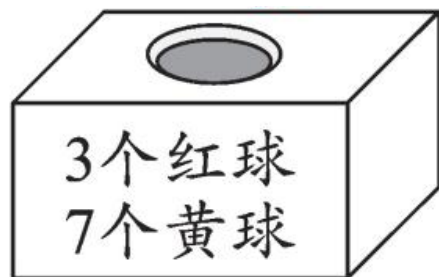
一定是
红球

一定是
黄球

不可能
是红球

不可能
是黄球

可能是
黄球

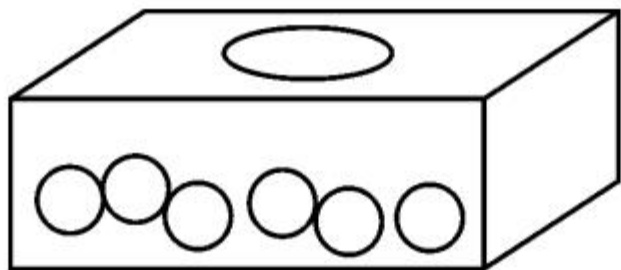


四 说一说指针可能停在哪种颜色的区域？

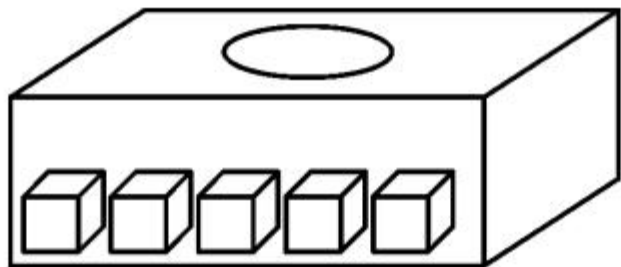


五 按要求涂一涂。

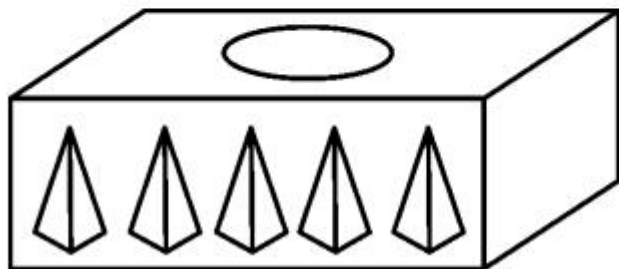
1. 摸出的一定是红色的。



2. 摸出的可能是蓝色的。



3. 摸出的不可能是绿色的,但有可能是黑色的。



六 小东说的可能发生吗？为什么？



现在是上午11时，
外面正下着大雨。



再过13小时，太阳
一定会出来的。

小东



$$1.4 \div 0.7 =$$


$$3.6 \div 0.06 =$$

$$25 \times 0.8 =$$

$$4.2 \times 3 =$$

$$3.3 \times 0.5 =$$

$$5.4 \div 0.9 =$$


$$0.48 \div 0.8 =$$

$$3.3 \times 0.3 =$$

$$4.4 \div 0.11 =$$

$$0.9 \div 0.3 =$$