



第 2 课时 分数乘整数(2)



3.  $\frac{1}{6}$ 箱有多少瓶？列式为( )，

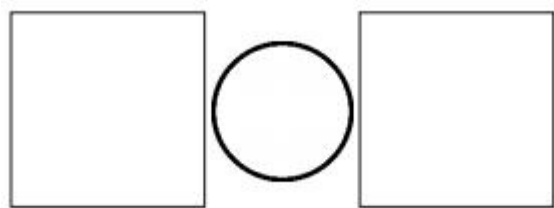
就是求 24 瓶的  $\left(\frac{\quad}{\quad}\right)$  是多少。

求一个数的几分之几是多少，  
用 ( ) 法计算。

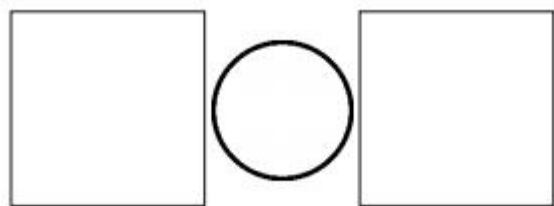


二 根据题意,只列式,不计算。

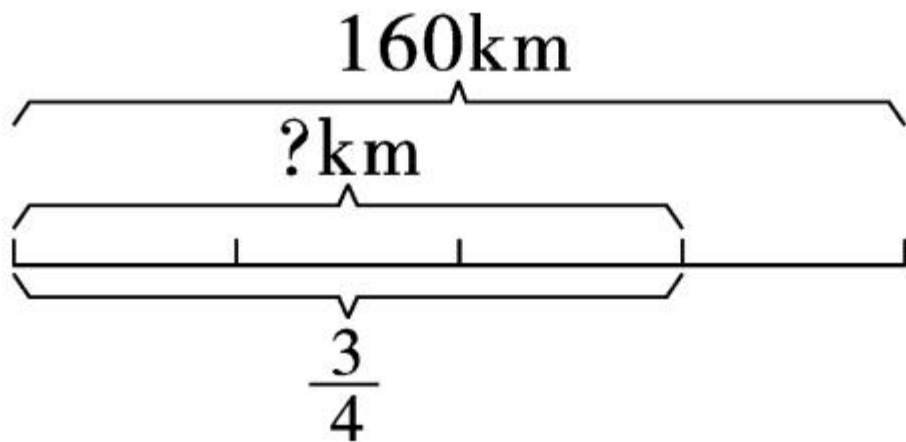
1. 3 小时的  $\frac{1}{8}$  是多少小时?



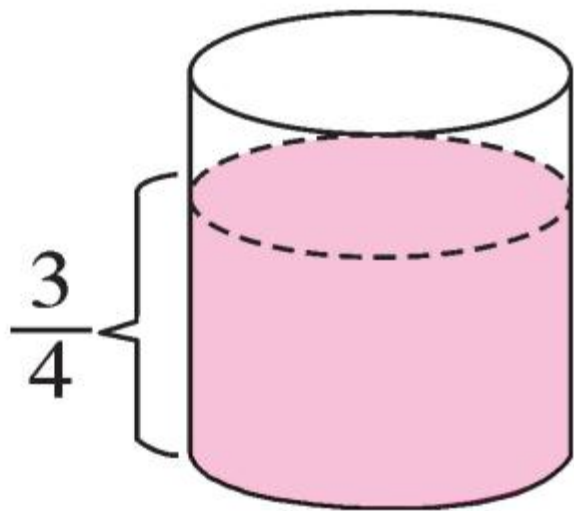
2. 一张卡纸的面积是 7 平方分米,做手工用去它的  $\frac{3}{4}$ ,用去多少平方分米?



三 看图列式计算。



四 一个圆柱形水箱最多可以装  $400\text{kg}$  水,  $\frac{3}{4}$  箱水重多少千克?



五 (武汉市江岸区) 学校买了一台 6000 元的电脑, 其中显示器的价格占电脑总价的  $\frac{1}{5}$ , 显示器的价格是多少元?

六

我体重35kg,  
书包重5kg。



阿玉

我们的负重最好不要超过体重的 $\frac{3}{20}$ 。如果长期背负过重的物体，会严重影响我们的成长。

1. 阿玉的书包超重吗？为什么？



2. 阿民的体重是  $38\text{kg}$ , 他的负重最好不要超过多少千克?



$$\frac{5}{7} \times 3 =$$

$$6 \times \frac{1}{5} =$$

$$\frac{3}{14} \times 7 =$$

$$\frac{1}{10} \times 4 =$$

$$3 \times \frac{3}{4} =$$

$$\frac{1}{3} \times 9 =$$

$$\frac{1}{11} \times 2 =$$

$$7 \times \frac{2}{7} =$$

$$5 \times \frac{1}{2} =$$

$$12 \times \frac{1}{6} =$$